

تم تحميل وعرض المادة من :



موقع واجباتي

www.wajibati.net

موقع واجباتي منصة تعليمية تساهم بنشر حل المناهج الدراسية بشكل متميز لترتقي بمجال التعليم على الإنترنت ويستطيع الطلاب تصفح حلول الكتب مباشرة لجميع المراحل التعليمية المختلفة



حمل التطبيق من هنا

اختبار التربية الفنية - ثالث ابتدائي - الترم الاول

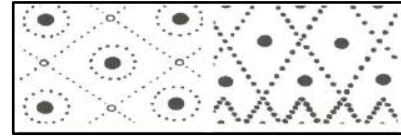

الصف : ٣ /

اسم الطالب/ة :

السؤال الأول ، صح او خطأ :

١. التصميم هو التخطيط لشيء معين وإنشاؤه بطريقة جميلة وممتعة
 صح خطأ
٢. يتم تنفيذ الاسكتش غالباً بأقلام الرصاص
 صح خطأ
٣. ألعابنا تعتمد على التصميم
 صح خطأ
٤. التصميم يستخدم في الفنون و العمارة و الأثاث فقط
 صح خطأ
٥. لم يعتمد الانسان في زخرفته على الموجودات المحيطة به
 صح خطأ

السؤال الثاني ، اختاري ما بين الاقواس وضعه في المكان المناسب في الفراغات التالية :
(تشكيلات من نقطة - تشكيلات من الخطوط)



.....

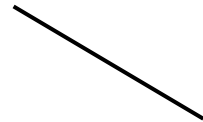
.....

السؤال الثالث ، صل/ي بين الشكل وما يناسبه من الكلمات فيما يأتي :

الخط



الحجم



الشكل



اختبار التربية الفنية - ثالث ابتدائي - الترم الاول


الصف : ٣ /

اسم الطالب/ة :

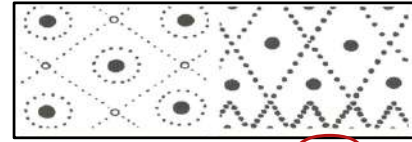
السؤال الأول ، صح او خطأ :

١. التصميم هو التخطيط لشيء معين وإنشاؤه بطريقة جميلة وممتعة
 صح خطأ
٢. يتم تنفيذ الاسكتش غالباً بأقلام الرصاص
 صح خطأ
٣. العابنا تعتمد على التصميم
 صح خطأ
٤. التصميم يستخدم في الفنون و العمارة و الأثاث فقط
 صح خطأ
٥. لم يعتمد الانسان في زخرفته على الموجودات المحيطة به
 صح خطأ

السؤال الثاني ، اختاري ما بين الاقواس وضعه في المكان المناسب في الفراغات التالية :
(تشكيلات من نقطة - تشكيلات من الخطوط)

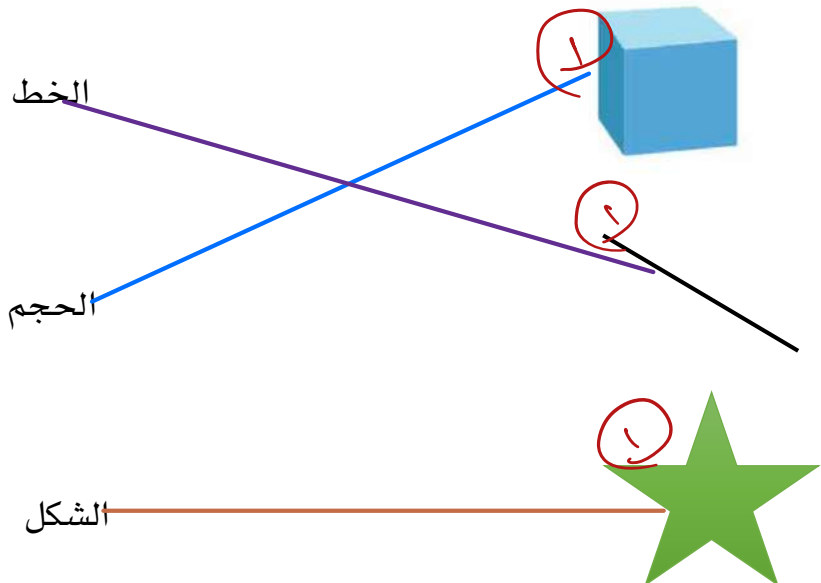


..... تشكيلات من الخطوط



..... تشكيلات من نقطة

السؤال الثالث ، صل/ي بين الشكل وما يناسبه من الكلمات فيما يأتي :



الدرجة الكاملة 10	تربية فنية	المادة		المملكة العربية السعودية
	١	عدد الأوراق		وزارة التعليم
	١	عدد الأسئلة		الإدارة العامة للتعليم بمحافظة الطائف مدرسة جميلة بنت الحارث

اختبار مادة (التربية الفنية) للصف (الثالث) - الفصل الدراسي (الأول) - الفترة (الأولى) لعام ١٤٤٦هـ

اسم الطالبة	الصف
-------------	------

السؤال الأول:

ضعي علامة (✓) أمام العبارة الصحيحة وعلامة (×) أمام العبارة الخاطئة فيما يلي :

م	العبارة	العلامة
١	التصميم هو التخطيط لشيء معين	()
٢	النقطة هي أبسط عناصر التصميم	()
٣	نجد شكل النقطة في أشياء كثيرة من حولنا مثل الفراولة	()
٤	من عناصر التصميم الخط	()
٥	من أنواع الخطوط الخط المتعرج	()
٦	الإسكتش هو التخطيط الأولي لأي عمل	()
٧	يستخدم في رسم الإسكتش قلم الرصاص	()
٨	تشكيلات من نقطة من الزخرفة البدائية	()
٩	من الزخارف الإسلامية زخرفة كتابية	()
١٠	يعتمد الإسكتش على الخط	()

انتهت الأسئلة
مع تمنياتي لكن بالتوفيق
معلمة المادة